

Код участника 083Р 9-3

Всероссийская олимпиада школьников  
муниципальный этап

083Р  
(предмет)

Олимпиадная работа

обучающегося 9-б класса

МБОУ Амьля №24

Валыгина Коммуниста Александровна  
(ФИО полностью)

15.04.2009  
(дата рождения участника)

Алиаров Виталий Александрович  
(ФИО ПРЕПОДАВАТЕЛЯ полностью)

Васильев К. А.

Г. РОСТОВ-НА-ДОНУ МУНИЦИПАЛЬНЫЙ ЭТАП ВСЕРОССИЙСКОЙ ОЛИМПИАДЫ ШКОЛЬНИКОВ  
2024/2025 УЧЕБНОГО ГОДА ПО ОСНОВАМ БЕЗОПАСНОСТИ И ЗАЩИТЫ РОДИНЫ 9 КЛАСС

Индивидуальный шифр участника  
9 - 3 - 0 53P

**ПРАКТИКА 9 КЛАСС**  
(максимальная оценка тура 100 баллов)

**Задания первой секции «Оказание первой помощи пострадавшему»**  
(максимальная оценка – 30 баллов)

**Задание № 1**  
(максимальная оценка – 15 баллов)

оценка	подпись
10	

**Задание № 2**  
(максимальная оценка – 15 баллов)

оценка	подпись
3	

**Задания второй секции «Выживание в условиях природной среды»**  
(максимальная оценка – 45 баллов)

**Задание № 1**  
(максимальная оценка – 10 баллов)

оценка	подпись
10	

**Задание № 2**  
(максимальная оценка – 10 баллов)

оценка	подпись
10	

**Задание № 3**  
(максимальная оценка – 25 баллов)

оценка	подпись
18	

**Задания третьей секции «Обеспечение личной безопасности в повседневной жизни и в чрезвычайных ситуациях»**  
(максимальная оценка – 25 баллов)

**Задание № 1**  
(максимальная оценка – 10 баллов)

оценка	подпись
10	

**Задание № 2**  
(максимальная оценка – 15 баллов)

оценка	подпись
9	

ИТОГО БАЛЛОВ ЗА ПРАКТИЧЕСКИЙ ТУР: 70

ПОДПИСИ ЧЛЕНОВ КОМИССИИ:

47

053Р

Индивидуальный шифр участника

9	-	3		
---	---	---	--	--

9 класс

### ТЕОРЕТИЧЕСКИЙ ТУР (60 минут)

Задание № 1 оценивается в 5 баллов, № 2 – в 10 баллов, № 3 – в 15 баллов, № 4 – в 15 баллов, № 5 – в 25 баллов.

Максимальная оценка – 70 баллов.

#### Задание 1.

Впишите буквенное обозначение категорий водительских прав (в таблице приведён пример по категории В):

M	Мопеды ✓
D	Трамваи -
D	Троллейбусы
B	Легковые автомобили, небольшие грузовики (до 3,5 тонн)
C ✓	Грузовые автомобили (от 3,5 тонн)
D ✓	Автобусы

3

Максимальная оценка за правильно выполненное задание 5 баллов.

#### Задание 2.

Установите соответствие видов терроризма по характеру целей деятельности

- А) Политический
- Б) Религиозный
- В) Криминальный
- Г) Националистический
- Д) Кибертерроризм


- 1) ненависть, крайняя нетерпимость к другим религиям;
- 2) использование в политических целях технических способов дезорганизации работы АИС (автоматическая идентификационная система) общественного управления и связи;
- 3) завоевание политической власти, свержение существующей государственной власти;
- 4) действия уголовно наказуемыми методами: убийства, грабежи, диверсии, контрабанда;
- 5) провокация межнациональных конфликтов для нарушения общественной безопасности, провозглашения преимуществ одной нации над другими.

10

А 3 Б 1 В 4 Г 5 Д 2

Максимальная оценка за правильно выполненное задание 10 баллов.

**Задание 3.** Рассмотрите изображение.



К признакам, свидетельствующим о неблагоприятном экологическом состоянии территории, относятся изменения окружающей среды различной степени, повлекшие за собой ухудшение здоровья проживающего на ней населения, нарушение природного равновесия, деградацию естественных экологических систем.

Заполните пропуски в таблице:

Зона экологического риска	<i>Зона экологического риска</i>	Зона экологического бедствия
<i>Судя по виду ее</i> <i>2</i>	территория с сильным загрязнением окружающей среды, для которой характерно резкое снижение продуктивности экосистем	<i>Территория с загрязнением окружающей среды</i>
содержание загрязняющих веществ превышает ПДК в 2 и более раз		
<i>Можно вести с/х</i> <i>2</i>	<i>Возможно с целью возделывания земель</i> <i>и</i> <i>водоот</i> <i>2</i>	практически полностью исключена возможность хозяйственного использования

6

Максимальная оценка за правильно выполненное задание **15 баллов.**

**Задание 4.** Рассмотрите изображение.



Какое стихийное бедствие изображено:

наводнение 2 (2 балла).

Укажите его прямые последствия (12 баллов):

1. затопление жилых домов 1
2. угроза жизни людей 1
3. ущерб урожаю 1
4. разрушение дорог 1
5. 4
- 6.

Укажите его вторичные последствия (6 баллов):

1. заболевание 2
- 2.
- 3.

**Максимальная оценка** за правильно выполненное задание **15 баллов.**

**Задание 5.**

Разгадайте кроссворд.

**По горизонтали:**

1. Состояние защищенности жизненно важных интересов личности и государства от внутренних и внешних угроз или опасностей, отсутствие недопустимого риска, связанного с возможностью нанесения ущерба.

**По вертикали:**

1. Общая, неспецифическая реакция организма на чрезмерное воздействие неблагоприятных факторов, выражающаяся в изменении состояния организма, в эмоциональном и/или физическом напряжении.

2. Чрезвычайная ситуация природного характера, во время которой масса рыхлых пород отрывается от склона и, подчиняясь силе тяжести, съезжает вниз, при этом оставаясь единым целым.



3. Приспособление организма к новым условиям.

4. Длинные волны в поверхностных водах Земли, вызываемые мощным воздействием на толщу воды в океане или другом водоёме, возникают чаще всего в результате сильного подводного землетрясения, когда происходит быстрое изменение рельефа дна. Могут достигать нескольких десятков метров.

5. Воздушная оболочка Земли.

					3							
	1								5			
	С								А			
	Т		2						Т			
	р		о						М			
			п						о			
1	8	Е	з	о	П	а	с	н	о	с	т	6
		с		л				А		ф		
		с		з				М		Е		
				Е				И		Р		
				Н						А		
				в								

20 б



**Максимальная оценка за правильно выполненное задание 25 баллов**

ИТОГО БАЛЛОВ:

47

ПОДПИСИ ЧЛЕНОВ КОМИССИИ:

Мед

[Signature]

[Signature]

185

0БЗР

Индивидуальный шифр

9	-	3		
---	---	---	--	--

9 класс

**ТЕСТИРОВАНИЕ (30 минут)**

Тесты №№ 1-10 предусматривают выбор одного правильного ответа и оцениваются в 1 балл; №№ 11-20 – нескольких правильных ответов и оцениваются в 2 балла. Максимальная оценка – 30 баллов.

№ п/п	Тестовые задания	Ваш ответ	Макс балл	Кол-во баллов
<b>Определите ОДИН правильный ответ</b>				
1	<p><b>Право управления какими транспортными средствами даёт категория А водительских удостоверений:</b></p> <p>а) трамваи б) троллейбусы в) автомобили г) мотоциклы</p>	б	1	0
2	<p><b>Как называется комплекс действий по предупреждению, пресечению и раскрытию преступлений экстремистского характера, осуществляемый органами государственного управления и общественными объединениями в соответствии с национальным законодательством:</b></p> <p>а) угроза экстремизму б) защита от экстремизма в) противодействие экстремизму г) борьба с экстремизмом</p>	б	1	1
3	<p><b>Признаком надёжного интернет-магазина является:</b></p> <p>а) красивый дизайн сайта б) низкие цены на предлагаемые товары в) интернет-магазин имеет много положительных отзывов других покупателей г) наличие адреса, банковских реквизитов и контактной информации на сайте д) известность на рынке, признанные торговые бренды в ассортименте</p>	г	1	1
4	<p><b>Укажите виды ЧС, которые относятся к ЧС геологического характера:</b></p> <p>а) бури, ливни, грозы, крупный град, сильный мороз или жара, туман б) землетрясения, извержения вулканов, оползни, камнепады в) пандемии инфекционных заболеваний людей, животных, растений г) наводнения, паводки, ледяные заторы, цунами, сели, снежные лавины</p>	г	1	1

5	<p><b>Азимут – это:</b></p> <p>а) угол между направлением на север и объектом б) угол между направлением на юг и объектом в) угол между направлением на восток и объектом г) угол между направлением на запад и объектом д) угол между двумя объектами</p>	а	1	1
6	<p><b>Фишинг – это:</b></p> <p>а) методы и способы вирусной рекламы и маркетинга б) группа фальшивых аккаунтов в) рыбная ловля г) использование поддельных писем и сайтов для получения конфиденциальных данных пользователей</p>	г	1	1
7	<p><b>Возвращаясь вечером домой, вы будете:</b></p> <p>а) идти кратчайшим путем, пролегающим через дворы, свалки и плохо освещенные места б) идти по освещенному тротуару и как можно ближе к краю дороги в) воспользуетесь попутным транспортом</p>	б	1	1
8	<p><b>Как правильно обходить стоящий трамвай:</b></p> <p>а) как удобно пешеходу б) сзади, как и автобус в) спереди г) как большинство других пешеходов д) допускается обход и сзади, и спереди</p>	б	1	1
9	<p><b>Система, созданная в России для предупреждения и ликвидации ЧС, – это:</b></p> <p>а) система сил и средств для ликвидации последствий чрезвычайных ситуаций (СССЧС) б) система наблюдения и контроля за состоянием окружающей природной среды (СНКОПС) в) Единая государственная система предупреждения и ликвидации чрезвычайных ситуаций (РСЧС)</p>	б	1	1
10	<p><b>Транспортная безопасность – это:</b></p> <p>а) защищенность пассажиров б) защищенность транспортной системы от нападения террористов в) состояние защищенности объектов транспортной инфраструктуры и транспортных средств от актов незаконного вмешательства г) защита железнодорожного транспорта от незаконного вмешательства</p>	б	1	1
<b>Определите НЕСКОЛЬКО правильных ответов</b>				
11	<p><b>К съедобным растениям относятся следующие:</b></p> <p>а) одуванчик б) черёмуха в) сусак г) воронец д) ландыш</p>	а	2	1



12	<p><b>Верно ли, что нельзя растирать обмороженное место снегом:</b></p> <p>а) верно, так как жёсткие крупинки снега могут ранить кожу, способствовать занесению инфекции</p> <p>б) верно, так как тающий снег увлажняет кожу и одежду, что усиливает воздействие холода</p> <p>в) верно, так как в тающем снеге содержится большое количество болезнетворных бактерий</p> <p>г) не верно, растирание снимет боль</p> <p>д) не верно, это исторически апробированная первая помощь при отморожениях</p>	а	2	1
13	<p><b>Укажите способы тушения горящих жидкостей:</b></p> <p>а) водой;</p> <p>б) пенообразующими составами;</p> <p>в) путём засыпки землёй или песком;</p> <p>г) путём накрывания небольших очагов тяжёлым покрывалом или одеждой;</p> <p>д) путём затапывания</p>	а б	2	1
14	<p><b>По каким признакам можно заподозрить, что сайт, который вы просматриваете в Сети, является фишинговым – созданной злоумышленниками страницей, имитирующей официальный сайт компании, бренда, магазина или публичного лица:</b></p> <p>а) на странице сайта встречаются орфографические или грамматические ошибки</p> <p>б) интернет-адрес сайта содержит опечатки, искажения или дополнительные символы в сравнении с интернет-адресом официального сайта компании, бренда, магазина и т.д.</p> <p>в) на сайте отсутствует контактная информация и способы обратной связи</p> <p>г) у страницы или сайта есть подписчики</p>	а б	2	1
15	<p><b>Укажите, что из перечисленного запрещается делать пассажиру:</b></p> <p>а) открывать двери транспортного средства во время его движения</p> <p>б) отвлекать водителя от управления транспортным средством во время движения</p> <p>в) слушать музыку в наушниках</p> <p>г) при поездке на грузовом автомобиле с бортовой платформой стоять, сидеть на бортах или грузе выше бортов</p> <p>д) принимать пищу</p>	а б г	2	2
16	<p><b>Заражение дизентерией происходит через:</b></p> <p>а) воздух</p> <p>б) грязные руки</p> <p>в) инфицированные предметы</p> <p>г) пищу</p> <p>д) укусы грызунов</p>	а б г	2	0

17	<p><b>На возможную установку взрывного устройства могут указывать следующие признаки:</b></p> <p>а) тиканье б) запах миндаля в) торчащие куски шерсти или волос г) натянутая проволока или шнур д) треск, запах и дым, свидетельствующие о горении</p>	а г	2	1
18	<p><b>Укажите основные причины сокращения сельскохозяйственных угодий:</b></p> <p>а) зарастание лесом и кустарником мелкоконтурных и удалённых участков б) развитие эрозионных процессов в) торфяные пожары г) подтопление и заболачивание земель д) развитие фермерских хозяйств</p>	г А	2	0
19	<p><b>Укажите характеристики сетевых «червей» (вредоносных программ):</b></p> <p>а) представляют собой самостоятельные файлы б) умеют размножаться в) могут распространяться по локальным сетям г) не размножаются сами д) не рассылаются сами</p>	в г	2	0
20	<p><b>Что происходит в коре больших полушарий мозга после употребления спиртного напитка:</b></p> <p>а) нарушение координации мышечных движений нервными клетками б) улучшение координации движений, обострение чувств и реакций в) снижение контроля нижележащих отделов головного мозга г) улучшение межнейронных связей с нижележащими отделами головного мозга; д) нормализация поведения е) снижение торможения и усиление возбуждения</p>	а в е	2	2

ИТОГО БАЛЛОВ: 18

ПОДПИСИ ЧЛЕНОВ КОМИССИИ:

В.В.  
[подпись]  
[подпись]