

Код участника ОБЗР 9-2

Всероссийская олимпиада школьников
муниципальный этап

ОБЗР

(предмет)

Олимпиадная работа

обучающегося 9 класса

МБОУ "Лицей №24"

Земчигов Максим Дмитриевич

(ФИО полностью)

02.03.2009.

(дата рождения участника)

Лышев Виталий Александрович

(ФИО ПРЕПОДАВАТЕЛЯ полностью)

2024год

Мучеников М.В.

Г. РОСТОВ-НА-ДОНУ МУНИЦИПАЛЬНЫЙ ЭТАП ВСЕРОССИЙСКОЙ ОЛИМПИАДЫ ШКОЛЬНИКОВ
2024/2025 УЧЕБНОГО ГОДА ПО ОСНОВАМ БЕЗОПАСНОСТИ И ЗАЩИТЫ РОДИНЫ 9 КЛАСС

063Р

Индивидуальный шифр участника

9	-	2			
---	---	---	--	--	--


Задания третьей секции «Обеспечение личной безопасности
в повседневной жизни и в чрезвычайных ситуациях»
(максимальная оценка – 25 баллов)

ПРАКТИКА 9 КЛАСС
(максимальная оценка тура 100 баллов)

Задание первой секции
«Оказание первой помощи пострадавшему»
(максимальная оценка – 30 баллов)


Задание № 1

(максимальная оценка – 15 баллов)

оценка	подпись
10	

Задание № 2


(максимальная оценка – 15 баллов)

оценка	подпись
10	

Задания второй секции «Выживание в условиях природной среды»
(максимальная оценка – 45 баллов)


Задание № 1

(максимальная оценка – 10 баллов)

оценка	подпись
10	


Задание № 2

(максимальная оценка – 10 баллов)

оценка	подпись
10	

Задание № 3

(максимальная оценка – 25 баллов)

оценка	подпись
16	

Г. РОСТОВ-НА-ДОНУ МУНИЦИПАЛЬНЫЙ ЭТАП ВСЕРОССИЙСКОЙ ОЛИМПИАДЫ ШКОЛЬНИКОВ
2024/2025 УЧЕБНОГО ГОДА ПО ОСНОВАМ БЕЗОПАСНОСТИ И ЗАЩИТЫ РОДИНЫ 9 КЛАСС

Задания третьей секции «Обеспечение личной безопасности
в повседневной жизни и в чрезвычайных ситуациях»
(максимальная оценка – 25 баллов)


Задание № 1

(максимальная оценка – 10 баллов)

оценка	подпись
0	

Задание № 2

(максимальная оценка – 15 баллов)

оценка	подпись
3	

59

ИТОГО БАЛЛОВ ЗА ПРАКТИЧЕСКИЙ ТУР: _____

ПОДПИСИ ЧЛЕНОВ КОМИССИИ: _____



053P

Индивидуальный шифр участника

9 - 2

ТЕОРЕТИЧЕСКИЙ ТУР (60 МИНУТ)

9 класс

Задание № 1 оценивается в 5 баллов, № 2 – в 10 баллов, № 3 – в 15 баллов, № 4 – в 15 баллов, № 5 – в 25 баллов.

Максимальная оценка – 70 баллов.

Задание 1.

Впишите буквенное обозначение категорий водительских прав (в таблице приведён пример по категории B):

Мопеды	<input checked="" type="checkbox"/>
Трамваи	<input type="checkbox"/>
Троллейбусы	<input type="checkbox"/>
Легковые автомобили, небольшие грузовики (до 3,5 тонн)	<input checked="" type="checkbox"/>
Грузовые автомобили (от 3,5 тонн)	<input type="checkbox"/>
Автобусы	<input checked="" type="checkbox"/>

Максимальная оценка за правильно выполненное задание 5 баллов.

Задание 2.

Установите соответствие видов терроризма по характеру целей деятельности

- A) Политический
- B) Религиозный
- B) Криминальный
- Г) Националистический
- Д) Кибертерроризм


- 1) ненависть, крайняя нетерпимость к другим религиям;
- 2) использование в политических целях технических способов дезорганизации работы АИС (автоматическая идентификационная система) государственной власти;
- 3) завоевание политической власти, свержение существующей государственной власти;
- 4) действия уголовно наказуемыми методами: убийства, грабежи, диверсии, контрабанда;
- 5) провокация межнациональных конфликтов для нарушения общественной безопасности, провокации преступления преимущественно одной нации над другими.

Максимальная оценка за правильно выполненное задание 10 баллов.

A 2 B 1 B 1 Г 3 Д 3

Задание 3. Рассмотрите изображение.

К признакам, свидетельствующим о неблагоприятном экологическом состоянии территории, относятся изменения окружающей среды различной степени, повлекшие за собой ухудшение здоровья проживающего на ней населения, нарушение природного равновесия, деградацию естественных экологических систем.



Заполните пропуски в таблице:

Зона экологического риска		Зона экологического риска
Зона экологического бедствия	территория с сильным загрязнением окружающей среды, для которой характерно резкое снижение продуктивности экосистем	
		содержание загрязняющих веществ превышает ПДК в 2 и более раз
Зона экологического бедствия	практически полностью исключена возможность хозяйственного использования	

Максимальная оценка за правильно выполненное задание 15 баллов.

Задание 4. Рассмотрите изображение.



Какое стихийное бедствие изображено:

(2 балла).

наводнение

Укажите его прямые последствия (12 баллов):

1. *эвакуация*

2. *повреждение*

3. *отсутствие*

1.

2.

3.

Укажите его вторичные последствия (6 баллов):

Максимальная оценка за правильно выполненное задание 15 баллов.

Задание 5.

Разгадайте кроссворд.

По горизонтали:

1. Состояние защищенности жизненно важных интересов личности и государства от внутренних и внешних угроз или опасностей, отсутствие недопустимого риска, связанного с возможностью нанесения ущерба.

По вертикали:

1. Общая, неспецифическая реакция организма на чрезмерное воздействие неблагоприятных факторов, выражающаяся в изменении состояния организма, эмоциональном и/или физическом напряжении.

Индивидуальный шифр -

9 класс
ТЕСТИРОВАНИЕ (30 минут)

Тесты №№ 1-10 предусматривают выбор одного правильного ответа и оцениваются в 1 балл; №№ 11-20 – нескольких правильных ответов и оцениваются в 2 балла. Максимальная оценка – 30 баллов.

№	Тестовые задания	Ваш ответ	Макс балл	Кол-во баллов
---	------------------	-----------	-----------	---------------

О п р е д е л и т е О Д И Н п р а в и л ь н ы й о т в е т

1	<p>Право управления какими транспортными средствами даёт категория А водителюских удостоверений:</p> <p>а) трамваи б) троллейбусы в) автомобили г) мотоциклы</p>	1	2	1
2	<p>Как называется комплекс действий по предупреждению, пресечению и раскрытию преступлений экстремистского характера, осуществляемый органами государственного управления и общественными объединениями в соответствии с национальным законодательством:</p> <p>а) угроза экстремизму б) защита от экстремизма в) противодействие экстремизму г) борьба с экстремизмом</p>	1	2	0
3	<p>Признаком надёжного интернет-магазина является:</p> <p>а) красивые дизайн сайта б) низкие цены на предлагаемые товары в) интернет-магазин имеет много положительных отзывов других покупателей г) наличие адреса, банковских реквизитов и контактной информации на сайте д) известность на рынке, признанные торговые бренды в ассортименте</p>	1	2	1
4	<p>Укажите виды ЧС, которые относятся к ЧС геологического характера:</p> <p>а) бури, ливни, грозы, крупные град, сильный мороз или жара, туман б) землетрясения, извержения вулканов, оползни, камнепады в) пандемии инфекционных заболеваний, животных, растений г) наводнения, паводки, ледяные заторы, цунами, сели, снежные лавины</p>	1	2	0

5	1	а	а) угол между направлением на север и объектом б) угол между направлением на юг и объектом в) угол между направлением на восток и объектом г) угол между направлением на запад и объектом д) угол между двумя объектами	Азимут – это:
6	1	2	а) методы и способы вирусной рекламы и маркетинга б) группа фальшивых аккаунтов в) рыбная ловля г) использование поддельных писем и сайтов для получения конфиденциальных данных пользователей	Фишинг – это:
7	1	б	а) илти кратчайшим путем, пролетающим через дворы, свалки и плохос освещенные места б) илти по освещенному тротуару и как можно ближе к краю дороги в) воспользуйтесь попутным транспортом	Возвращаясь вечером домой, вы будете:
8	1	б	а) как угодно пешеходу б) сзади, как и автобус в) спереди г) как большинство других пешеходов д) допускается обход и сзади, и спереди	Как правильно обходить стоящий трамвай:
9	1	б	а) система сил и средств для ликвидации последствий чрезвычайных ситуаций (ССЧС) б) система наблюдения и контроля за состоянием окружающей природной среды (СНКОПС) в) Единая государственная система предупреждения и ликвидации чрезвычайных ситуаций (РСЧС)	Система, созданная в России для предупреждения и ликвидации ЧС, – это:
10	1	б	а) защищенность пассажиров б) защищенность транспортной системы от нападения террористов в) состояние защищенности объектов транспортной инфраструктуры и транспортных средств от актов незаконного вмешательства г) защита железнодорожного транспорта от незаконного вмешательства	Транспортная безопасность – это:
Определите НЕСКОЛЬКО правильных ответов				
11	2	б	а) одуванчик б) черемуха в) сушак г) воронец д) ландыш	К съедобным растениям относятся следующие:

16	<p>Заражение дизентерией происходит через:</p> <p>а) воздух б) грязные руки в) инфицированные предметы г) пищу д) укусы грызунов</p>	2	0
15	<p>Укажите, что из перечисленного запрещается делать пассажиру:</p> <p>а) открывать двери транспортного средства во время его движения б) отвлекать водителя от управления транспортным средством во время движения в) слушать музыку в наушниках г) при поездке на грузовом автомобиле с бортовой платформой стоять, сидеть на бортах или грузе выше бортов д) принимать пищу</p>	2	2
14	<p>По каким признакам можно заподозрить, что сайт, который вы просматриваете в Сети, является фишинговым – созданный злоумышленниками страницей, имитирующей официальный сайт компании, бренда, магазина или публичного лица:</p> <p>а) на странице сайта встречаются орфографические или грамматические ошибки б) интернет-адрес сайта содержит опечатки, искажения или дополненные символы в сравнении с интернет-адресом официального сайта компании, бренда, магазина и т.д. в) на сайте отсутствует контактная информация и способы обратной связи г) у странички или сайта есть подписчики</p>	2	1
13	<p>Укажите способы тушения горящих жидкостей:</p> <p>а) водой; б) пенообразующими составами; в) путём засыпки землёй или песком; г) путём накрывания небольшим очагов тяжёлым покрытием или одеждой; д) путём затопливания</p>	2	0
12	<p>Верно ли, что нельзя расстирать обмороженное место снегом:</p> <p>а) верно, так как жёсткие крупики снега могут ранить кожу, способствовать занесению инфекции б) верно, так как тающий снег увлажняет кожу и одежду, что усиливает воздействие холода в) верно, так как в тающем снеге содержится большое количество болезнетворных бактерий г) не верно, расстирание снимет боль д) не верно, это исторически апробированная первая помощь при отморожениях</p>	2	1

17	2	2	а, в, г, д	<p>На возможную установку взрывного устройства могут указывать следующие признаки:</p> <p>а) тиканье б) запах миндала в) торчащие куски шерсти или волос г) натянута проволока или шнур д) треск, запах и дым, свидетельствующие о горении</p>
18	2	2	б, в, г, д	<p>Укажите основные причины сокращения сельскохоззяйственных угодий:</p> <p>а) зарастание лесом и кустарником мелкококонтурных и удалённых участков б) развитие эрозийных процессов в) торфяные пожары г) подтопление и заболачивание земель д) развитие фермерских хозяйств</p>
19	2	2	а, б, в, г, д	<p>Укажите характеристики сетевых «червей» (вредоносных программ):</p> <p>а) представляют собой самостоятельные файлы б) умеют размножаться в) могут распространяться по локальным сетям г) не размножаются сами д) не расщепляются сами</p>
20	2	2	а, б, в, г, д, е	<p>Что происходит в коре больших полушарий мозга после употребления спиртного напитка:</p> <p>а) нарушение координации мышечных движений нервными клетками б) улучшение координации движений, обострение чувств и реакций в) снижение контроля нижележащих отделов головного мозга г) улучшение межнейронных связей с нижележащими отделами головного мозга; д) нормализация поведения е) снижение торможения и усиление возбуждения</p>

ПОДПИСИ ЧЛЕНОВ КОМИССИИ:

ИТОГО БАЛЛОВ: 14

Фамилия

Инициалы