

Код участника ОБЗР 9-18

Всероссийская олимпиада школьников  
муниципальный этап

ОБЗР  
(предмет)

Олимпиадная работа

обучающегося 9 класса

МБОУ СШ №12 г.Волгодонска

Бобылева Михаила Евгеньевича  
(ФИО полностью)

13.04.2009

Шубина Наталья Григорьевна  
(ФИО ПРЕПОДАВАТЕЛЯ полностью)

2024 год

0539

165

Индивидуальный шифр 9 - 1 8

9 класс

ТЕСТИРОВАНИЕ (30 минут)

Тесты №№ 1-10 предусматривают выбор одного правильного ответа и оцениваются в 1 балл; №№ 11-20 – нескольких правильных ответов и оцениваются в 2 балла. Максимальная оценка – 30 баллов.

№ п/п	Тестовые задания	Ваш ответ	Макс балл	Кол-во баллов
<b>Определите ОДИН правильный ответ</b>				
1	<p><b>Право управления какими транспортными средствами даёт категория А водительских удостоверений:</b></p> <p>а) трамваи б) троллейбусы в) автомобили г) мотоциклы</p>	Г	1	1
2	<p><b>Как называется комплекс действий по предупреждению, пресечению и раскрытию преступлений экстремистского характера, осуществляемый органами государственного управления и общественными объединениями в соответствии с национальным законодательством:</b></p> <p>а) угроза экстремизму б) защита от экстремизма в) противодействие экстремизму г) борьба с экстремизмом</p>	Д	1	0
3	<p><b>Признаком надёжного интернет-магазина является:</b></p> <p>а) красивый дизайн сайта б) низкие цены на предлагаемые товары в) интернет-магазин имеет много положительных отзывов других покупателей г) наличие адреса, банковских реквизитов и контактной информации на сайте д) известность на рынке, признанные торговые бренды в ассортименте</p>	Г	1	1
4	<p><b>Укажите виды ЧС, которые относятся к ЧС геологического характера:</b></p> <p>а) бури, ливни, грозы, крупный град, сильный мороз или жара, туман б) землетрясения, извержения вулканов, оползни, камнепады в) пандемии инфекционных заболеваний людей, животных, растений г) наводнения, паводки, ледяные заторы, цунами, сели, снежные лавины</p>	Д	1	1

5	<p><b>Азимут – это:</b></p> <p>а) угол между направлением на север и объектом б) угол между направлением на юг и объектом в) угол между направлением на восток и объектом г) угол между направлением на запад и объектом д) угол между двумя объектами</p>	а	1	1
6	<p><b>Фишинг – это:</b></p> <p>а) методы и способы вирусной рекламы и маркетинга б) группа фальшивых аккаунтов в) рыбная ловля г) использование поддельных писем и сайтов для получения конфиденциальных данных пользователей</p>	Г	1	1
7	<p><b>Возвращаясь вечером домой, вы будете:</b></p> <p>а) идти кратчайшим путем, пролегающим через дворы, свалки и плохо освещенные места б) идти по освещенному тротуару и как можно ближе к краю дороги в) воспользуетесь попутным транспортом</p>	б	1	0
8	<p><b>Как правильно обходить стоящий трамвай:</b></p> <p>а) как удобно пешеходу б) сзади, как и автобус в) спереди г) как большинство других пешеходов д) допускается обход и сзади, и спереди</p>	б	1	0
9	<p><b>Система, созданная в России для предупреждения и ликвидации ЧС, – это:</b></p> <p>а) система сил и средств для ликвидации последствий чрезвычайных ситуаций (СССЧС) б) система наблюдения и контроля за состоянием окружающей природной среды (СНКОПС) в) Единая государственная система предупреждения и ликвидации чрезвычайных ситуаций (РСЧС)</p>	В	1	1
10	<p><b>Транспортная безопасность – это:</b></p> <p>а) защищенность пассажиров б) защищенность транспортной системы от нападения террористов в) состояние защищенности объектов транспортной инфраструктуры и транспортных средств от актов незаконного вмешательства г) защита железнодорожного транспорта от незаконного вмешательства</p>	В	1	1
<b>Определите НЕСКОЛЬКО правильных ответов</b>				
11	<p><b>К съедобным растениям относятся следующие:</b></p> <p>а) одуванчик б) черёмуха в) сусак г) воронец д) ландыш</p>	БГ	2	0

12	<p><b>Верно ли, что нельзя растирать обмороженное место снегом:</b></p> <p>а) верно, так как жёсткие крупинки снега могут ранить кожу, способствовать занесению инфекции</p> <p>б) верно, так как тающий снег увлажняет кожу и одежду, что усиливает воздействие холода</p> <p>в) верно, так как в тающем снеге содержится большое количество болезнетворных бактерий</p> <p>г) не верно, растирание снимет боль</p> <p>д) не верно, это исторически апробированная первая помощь при отморожениях</p>	А Б	2	1
13	<p><b>Укажите способы тушения горящих жидкостей:</b></p> <p>а) водой;</p> <p>б) пенообразующими составами;</p> <p>в) путём засыпки землёй или песком;</p> <p>г) путём накрывания небольших очагов тяжёлым покрывалом или одеждой;</p> <p>д) путём затапывания</p>	Б В Г	2	2
14	<p><b>По каким признакам можно заподозрить, что сайт, который вы просматриваете в Сети, является фишинговым – созданной злоумышленниками страницей, имитирующей официальный сайт компании, бренда, магазина или публичного лица:</b></p> <p>а) на странице сайта встречаются орфографические или грамматические ошибки</p> <p>б) интернет-адрес сайта содержит опечатки, искажения или дополнительные символы в сравнении с интернет-адресом официального сайта компании, бренда, магазина и т.д.</p> <p>в) на сайте отсутствует контактная информация и способы обратной связи</p> <p>г) у страницы или сайта есть подписчики</p>	Б В	2	1
15	<p><b>Укажите, что из перечисленного запрещается делать пассажиру:</b></p> <p>а) открывать двери транспортного средства во время его движения</p> <p>б) отвлекать водителя от управления транспортным средством во время движения</p> <p>в) слушать музыку в наушниках</p> <p>г) при поездке на грузовом автомобиле с бортовой платформой стоять, сидеть на бортах или грузе выше бортов</p> <p>д) принимать пищу</p>	А Б Г	2	2
16	<p><b>Заражение дизентерией происходит через:</b></p> <p>а) воздух</p> <p>б) грязные руки</p> <p>в) инфицированные предметы</p> <p>г) пищу</p> <p>д) укусы грызунов</p>	А В	2	0

17	<p><b>На возможную установку взрывного устройства могут указывать следующие признаки:</b></p> <p>а) тиканье б) запах миндаля в) торчащие куски шерсти или волос г) натянутая проволока или шнур д) треск, запах и дым, свидетельствующие о горении</p>	Б Г	2	0
18	<p><b>Укажите основные причины сокращения сельскохозяйственных угодий:</b></p> <p>а) зарастание лесом и кустарником мелкоконтурных и удалённых участков б) развитие эрозионных процессов в) торфяные пожары г) подтопление и заболачивание земель д) развитие фермерских хозяйств</p>	Б В	2	0
19	<p><b>Укажите характеристики сетевых «червей» (вредоносных программ):</b></p> <p>а) представляют собой самостоятельные файлы б) умеют размножаться в) могут распространяться по локальным сетям г) не размножаются сами д) не рассылаются сами</p>	А Б В	2	2
20	<p><b>Что происходит в коре больших полушарий мозга после употребления спиртного напитка:</b></p> <p>а) нарушение координации мышечных движений нервными клетками б) улучшение координации движений, обострение чувств и реакций в) снижение контроля нижележащих отделов головного мозга г) улучшение межнейронных связей с нижележащими отделами головного мозга; д) нормализация поведения е) снижение торможения и усиление возбуждения</p>	А В	2	1

ИТОГО БАЛЛОВ: 16


ПОДПИСИ ЧЛЕНОВ КОМИССИИ:

13

[Подпись]

[Подпись]

**Задание 3.** Рассмотрите изображение.



К признакам, свидетельствующим о неблагоприятном экологическом состоянии территории, относятся изменения окружающей среды различной степени, повлекшие за собой ухудшение здоровья проживающего на ней населения, нарушение природного равновесия, деградацию естественных экологических систем.

Заполните пропуски в таблице:

Зона экологического риска	<i>Зона экологической системы</i> 2	Зона экологического бедствия
2	территория с сильным загрязнением окружающей среды, для которой характерно резкое снижение продуктивности экосистем	2
содержание загрязняющих веществ превышает ПДК в 2 и более раз	2	2
2	2	практически полностью исключена возможность хозяйственного использования

**Максимальная оценка за правильно выполненное задание 15 баллов.**

**Задание 4.** Рассмотрите изображение.



Какое стихийное бедствие изображено:

затопление (2 балла).

Укажите его прямые последствия (12 баллов):

1. смерть животных
2. разрушение зданий
3. экономический ущерб государству
4. \_\_\_\_\_
5. \_\_\_\_\_
6. \_\_\_\_\_

Укажите его вторичные последствия (6 баллов):

1. размещение людей
2. ущерб зданиям под землей
3. \_\_\_\_\_

**Максимальная оценка** за правильно выполненное задание **15 баллов.**

**Задание 5.**

Разгадайте кроссворд.

**По горизонтали:**

1. Состояние защищенности жизненно важных интересов личности и государства от внутренних и внешних угроз или опасностей, отсутствие недопустимого риска, связанного с возможностью нанесения ущерба.

**По вертикали:**

1. Общая, неспецифическая реакция организма на чрезмерное воздействие неблагоприятных факторов, выражающаяся в изменении состояния организма, в эмоциональном и/или физическом напряжении.





Индивидуальный шифр участника

9 - 1 8

0539

**ТЕОРЕТИЧЕСКИЙ ТУР (60 МИНУТ)**

9 класс

Задание № 1 оценивается в 5 баллов, № 2 – в 10 баллов, № 3 – в 15 баллов, № 4 – в 15 баллов, № 5 – в 25 баллов.

Максимальная оценка – 70 баллов.

**Задание 1.**

Впишите буквенное обозначение категорий водительских прав (в таблице приведён пример по категории В):

Мопеды	M
Трамваи	-
Троллейбусы	-
Легковые автомобили, небольшие грузовики (до 3,5 тонн)	B
Грузовые автомобили (от 3,5 тонн)	C
Автобусы	-

Максимальная оценка за правильно выполненное задание 5 баллов.

**Задание 2.**

Установите соответствие видов терроризма по характеру целей деятельности

- A) Политический
- B) Религиозный
- B) Криминальный
- Г) Националистический
- Д) Кибертерроризм
- 1) ненависть, крайняя нетерпимость к другим религиям;
- 2) использование в политических целях технических способов дезорганизации работы АИС (автоматическая идентификационная система) государственной власти;
- 3) завоевание политической власти, свержение существующей государственной власти;
- 4) действия уголовно наказуемыми методами: убийства, грабежи, диверсии, контрабанда;
- 5) провокация межнациональных конфликтов для нарушения общественной безопасности, провокации преимуществ одной нации над другими.

A 3 B\* B / B 4 Г 5 Д 2


Максимальная оценка за правильно выполненное задание 10 баллов.

**Борщев М.**  
Индивидуальный шифр участника 9 - 1 8   
063Р


**ПРАКТИКА 9 КЛАСС**  
(максимальная оценка тура 100 баллов)

**Задания первой секции**  
«Оказание первой помощи пострадавшему»  
(максимальная оценка – 30 баллов)

**Задание № 1**  
(максимальная оценка – 15 баллов)


оценка	подпись
10	

**Задание № 2**  
(максимальная оценка – 15 баллов)


оценка	подпись
10	

**Задания второй секции «Выживание в условиях природной среды»**  
(максимальная оценка – 45 баллов)


**Задание № 1**  
(максимальная оценка – 10 баллов)

оценка	подпись
8	

**Задание № 2**  
(максимальная оценка – 10 баллов)


оценка	подпись
0	

**Задание № 3**  
(максимальная оценка – 25 баллов)


оценка	подпись
23	

**Задания третьей секции «Обеспечение личной безопасности в повседневной жизни и в чрезвычайных ситуациях»**  
(максимальная оценка – 25 баллов)

**Задание № 1**  
(максимальная оценка – 10 баллов)

оценка	подпись
10	

**Задание № 2**  
(максимальная оценка – 15 баллов)

оценка	подпись
12	

ИТОГО БАЛЛОВ ЗА ПРАКТИЧЕСКИЙ ТУР: 73  
ПОДПИСИ ЧЛЕНОВ КОМИССИИ: 